

立体図形

レベル1

日付

目標時間

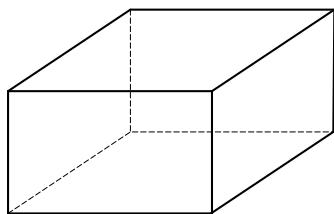
名 前

／

12分

1 次の立体の名前として^{もっと}最もふさわしいものを答えましょう。

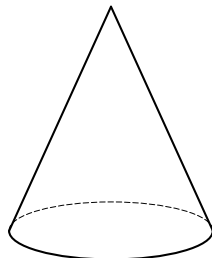
(1)




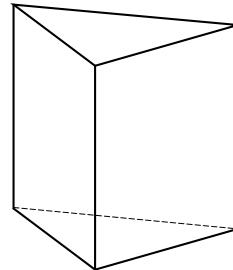
(どの面も長方形)



(2)




(3)



2 五角柱について、次の問いに答えましょう。

(1) 五角柱の底面はどのような形をしていますか。
図形の名前を答えましょう。




(2) 五角柱に面は何個^{なんこ}ありますか。




(3) 五角柱に頂点^{ちやうてん}は何個ありますか。




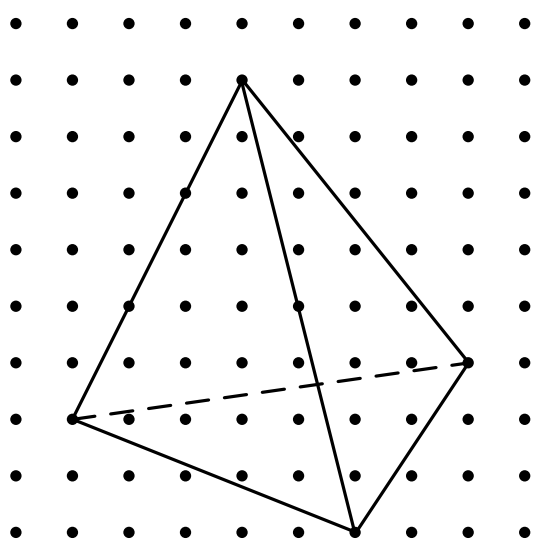
(4) 五角柱に辺^{へん}は何本ありますか。



- 3 立方体の積み木がぴったりと横に 2 こならんでいるような形の見取図を、フリーハンドでかきましょう。(辺の平行を意識してかくこと。うらがわを見えるようにかいても見えないようにかいてもよいです。)



- 4 点を利用して、左の三角錐の見取図を右にかき写しましょう。ただし、定規を使わずにフリーハンドでかきましょう。



チャレンジ1回目				チャレンジ2回目				合格ハンコ
時間	分	正解数	問	時間 +	分	正解数 +	問	
			9					